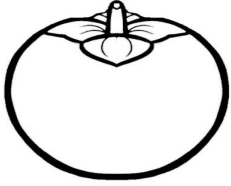



PROBLEMAS DE LA FUTERÍA

- Compré un kilo y cuarto de caquis. Si el kilo está a 4'20€. ¿Cuánto me costará el kilo y cuarto?




- Compré dos kilo de chirimoyas, que me costó 8'40 €. ¿A cuánto está el kilo?



- En un kilo de damascos entraban 16 damascos, Si compro dos kilos y medio ¿Cuántos damascos entrarán?



- Compré una sandía que pesaba 3 kilos y medio, si el kilo estaba a 0'60 €. ¿Cuánto me costará?



- Continúa la serie restando de cuatro en cuatro desde 100 hasta 0

100 – 96 – 92 –

.....

.....

- Rodea los números pares:

23 – 24 – 26 – 27 – 28 – 29 – 30 – 31 – 32 – 33 – 34 – 35 – 36 –

37 – 38 – 39 – 40 – 41 – 42 – 43 – 44 – 45 – 46 – 47 – 48 – 49