

PROBLEMAS DE SANDÍAS


Compré una sandía de 4 kilos, si el kilo estaba a 0'35 € ¿Por cuánto me sale la sandía?





Recogí de mi huerta 48 sandías, si las vendo por 3 € cada una. ¿Cuánto ganaré?



El kilo de sandía está a 0'94 €, si compro un trozo que pesa dos kilos y medio. ¿Cuánto costará?



Tengo una sandía que pesaba 6 kilos, si saco 24 tajadas. ¿Cuánto pesará cada tajada?



$$\begin{array}{r} 645 \\ - 296 \\ \hline \end{array}$$

$$\begin{array}{r} 753 \\ - 286 \\ \hline \end{array}$$

$$\begin{array}{r} 856 \\ - 378 \\ \hline \end{array}$$

$$\begin{array}{r} 964 \\ - 675 \\ \hline \end{array}$$