

PROBLEMAS DE MATERIAL ESCOLAR

Una caja tiene 16 lápices. ¿Cuántos lápices habrá en 4 cajas?



En una caja hay 120 rotuladores de colores.




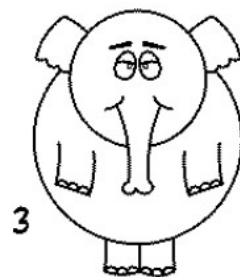


Si los reparto en 10 botes ¿Cuántos rotuladores pondré en cada bote?



Para comprar material escolar los 24 alumnos de una clase ponen 3 € cada uno ¿Cuánto dinero se habrá recogido?



Encuentra los dos dibujos que son exactamente iguales en cada grupo de imágenes.



ACERTIJO

¿Qué animal tiene dos hembras?