



PROBLEMAS DE FLORES


Compré tres docenas y media de tulipanes ¿Cuántos tulipanes son ?



Si compro docena y media de claveles, si la docena cuesta 3 € ¿Por cuánto me sale?



Compré dos sobres de cebollas de narciso, cada sobre traía 26 cebollas. Si las siembro y salen 47. ¿Cuántas se han perdido?



Para un ramo compro, dos docenas de margaritas, media docena de crisantemos, docena y media de claveles y cuatro docenas de rosas ¿Cuántas flores tendrá el ramo?



10 - Completa :

14 días = semanas

35 días =semanas

77 días = semanas

28 días = semanas